

# Inhaltsverzeichnis

<b>1</b>	<b>Lineare Algebra</b>	<b>3</b>
1.1	Vektoren in der Ebene - Übersicht . . . . .	3
1.1.1	01_1 Veranschaulichung von Vektoren in der Ebene . . . . .	3
1.1.2	01_1 Menge aller Vektoren in der Ebene . . . . .	3
1.1.3	01_1 Addition von Vektoren in der Ebene . . . . .	3
1.1.4	01_2 Nullvektor in der Ebene . . . . .	4
1.1.5	01_2 Subtraktion von Vektoren in der Ebene . . . . .	5
1.1.6	01_2 Multiplikation von einem Vektor mit einem Skalar (einer Zahl) . . . . .	6
1.1.7	02_1 „Kanonische“ Basisvektoren in der Ebene . . . . .	7
1.1.8	02_1 Lineare Abhängigkeit (Kollinearität) . . . . .	7
1.1.9	02_1 Länge (Norm) eines Vektors in der Ebene . . . . .	7
1.1.10	02_2 Einheitsvektoren . . . . .	8
1.1.11	02_2 Skalarprodukt von zwei Vektoren in der Ebene . . . . .	8
1.1.12	02_2 Öffnungswinkel zwischen zwei Vektoren $\vec{a} \neq 0, \vec{b} \neq 0$ in der Ebene . . . . .	8
1.1.13	Aufgaben - Vektoren in der Ebene . . . . .	9
1.2	Vektoren im Raum und n-dimensionale Vektoren - Übersicht . . . . .	10
1.2.1	03_1 Veranschaulichung von Vektoren im Raum . . . . .	10
1.2.2	03_1 Menge aller Vektoren im Raum / Menge aller n-dimensionalen Vektoren . . .	11
1.2.3	03_1 Addition von n-dimensionalen Vektoren . . . . .	11
1.2.4	03_1 n-dimensionaler Nullvektor . . . . .	11
1.2.5	03_2 Subtraktion von n-dimensionalen Vektoren . . . . .	12
1.2.6	03_2 Multiplikation von einem n-dimensionale Vektor mit einem Skalar . . . . .	12
1.2.7	03_2 „Kanonische“ n-dimensionale Basisvektoren . . . . .	13
1.2.8	03_2 Eine Linearkombination von m n-dimensionalen Vektoren $\vec{a}_1, \dots, \vec{a}_m$ . . . . .	13
1.2.9	03_2 Lineare Abhängigkeit von n-dimensionalen Vektoren . . . . .	13
1.2.10	04_1 Länge (Norm) eines n-dimensionalen Vektors . . . . .	13
1.2.11	04_1 n-dimensionale Einheitsvektoren . . . . .	14
1.2.12	04_1 Skalarprodukt von zwei n-dimensionalen Vektoren . . . . .	14
1.2.13	04_1 Öffnungswinkel zwischen zwei n-dimensionalen Vektoren $\vec{a} \neq \vec{0}$ und $\vec{b} \neq \vec{0}$ . . .	14
1.2.14	04_1 Vektorprodukt zwischen zwei Vektoren im $\mathbb{R}^3$ . . . . .	14
<b>2</b>	<b>23_1 Differentialrechnung in <math>\mathbb{R}</math></b>	<b>17</b>
2.1	Grenzwertbildung bei Funktionen und Stetigkeit: Übersicht . . . . .	17
2.1.1	Grenzwertbildung bei Funktionen . . . . .	17
<b>3</b>	<b>Lösungen</b>	<b>19</b>
3.1	Aufgabe 1 . . . . .	19
3.1.1	Lösung . . . . .	19
3.2	Aufgabe 2 . . . . .	20
3.2.1	Lösung . . . . .	20
3.3	Aufgabe 107 . . . . .	21



# 1 Lineare Algebra

## 1.1 Vektoren in der Ebene - Übersicht

### 1.1.1 01\_1 Veranschaulichung von Vektoren in der Ebene

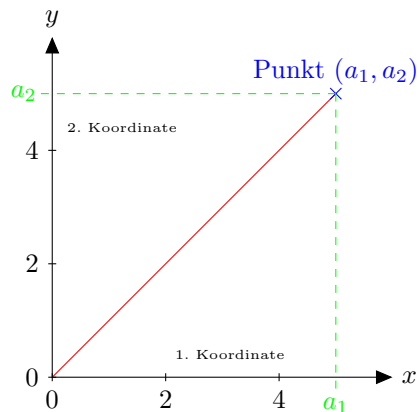


Abbildung 1.1: Punkt  $(a_1, a_2)$

$$\vec{a} = (a_1, a_2) \quad \text{auch üblich}$$

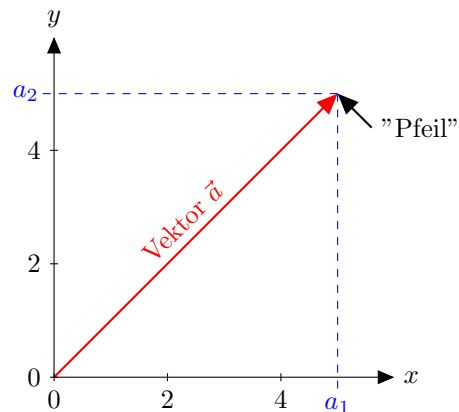


Abbildung 1.2:  $\vec{a} = (a_1, a_2)$

$$\vec{a} = \begin{pmatrix} a_1 \\ a_2 \end{pmatrix} \leftarrow \text{Geordnetes Paar}$$

### 1.1.2 01\_1 Menge aller Vektoren in der Ebene

Die Menge aller Vektoren in der Ebene heißt  $\mathbb{R}^2$ ; dabei ist  $\mathbb{R}$  die Menge der reellen Zahlen. Also:  
 $\mathbb{R} = \{\vec{a} = (a_1, a_2) | a_1 \in \mathbb{R}, a_2 \in \mathbb{R}\}$

### 1.1.3 01\_1 Addition von Vektoren in der Ebene

Die Addition von Vektoren liefert als Ergebnis wieder einen Vektor.

rechnerisch:

$$\vec{a} = (a_1, a_2), \vec{b} = (b_1, b_2)$$
$$\vec{a} + \vec{b} = ((a_1 + b_1, a_2 + b_2))$$

## 1 Lineare Algebra

zeichnerisch:

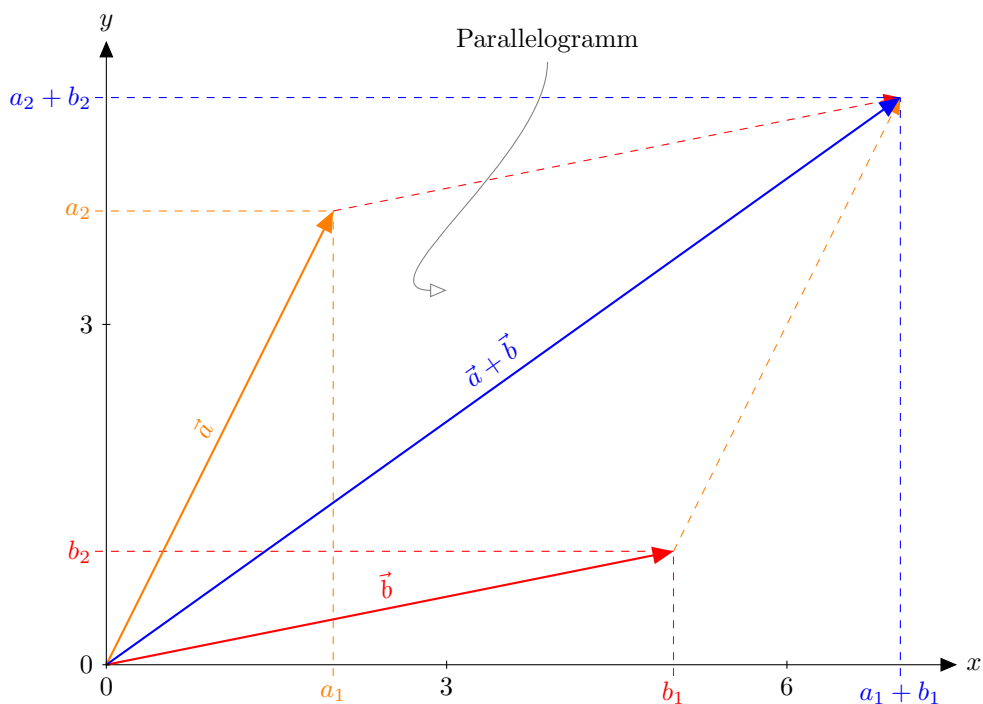


Abbildung 1.3: Addition von Vektoren  $\vec{a} + \vec{b}$

Rechenregeln:  $\vec{a} + \vec{b} = \vec{b} + \vec{a};$   
 $\vec{a} + (\vec{b} + \vec{c}) = (\vec{a} + \vec{b}) + \vec{c}$

### 1.1.4 01\_2 Nullvektor in der Ebene

$$\vec{0} = (0, 0)$$

Rechenregel:  $\vec{a} + \vec{0} = \vec{a}$

### 1.1.5 01\_2 Subtraktion von Vektoren in der Ebene

Die Subtraktion von Vektoren liefert wieder einen Vektor.

rechnerisch:  $\vec{a} = (a_1, a_2), \vec{b} = (b_1, b_2)$   
 $\vec{a} - \vec{b} = (a_1 - b_1, a_2 - b_2)$

zeichnerisch:

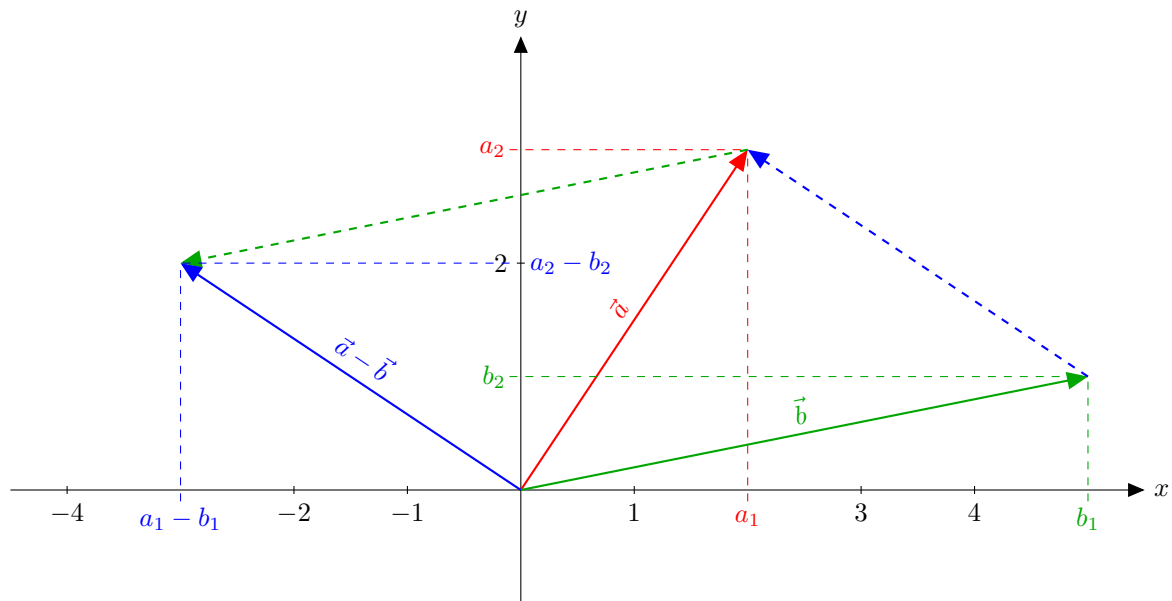


Abbildung 1.4: Subtraktion von Vektoren  $\vec{a} - \vec{b}$

Rechenregel:  $\vec{a} - \vec{a} = \vec{0}$

### 1.1.6 01\_2 Multiplikation von einem Vektor mit einem Skalar (einer Zahl)

Liefert wieder einen Vektor.

rechnerisch:  $\vec{a} = (a_1, a_2), k \in \mathbb{R}$   
 $k \cdot \vec{a} = (k \cdot a_1, k \cdot a_2)$   
 $k = 0 : 0 \cdot \vec{a} = \vec{0}$

zeichnerisch:

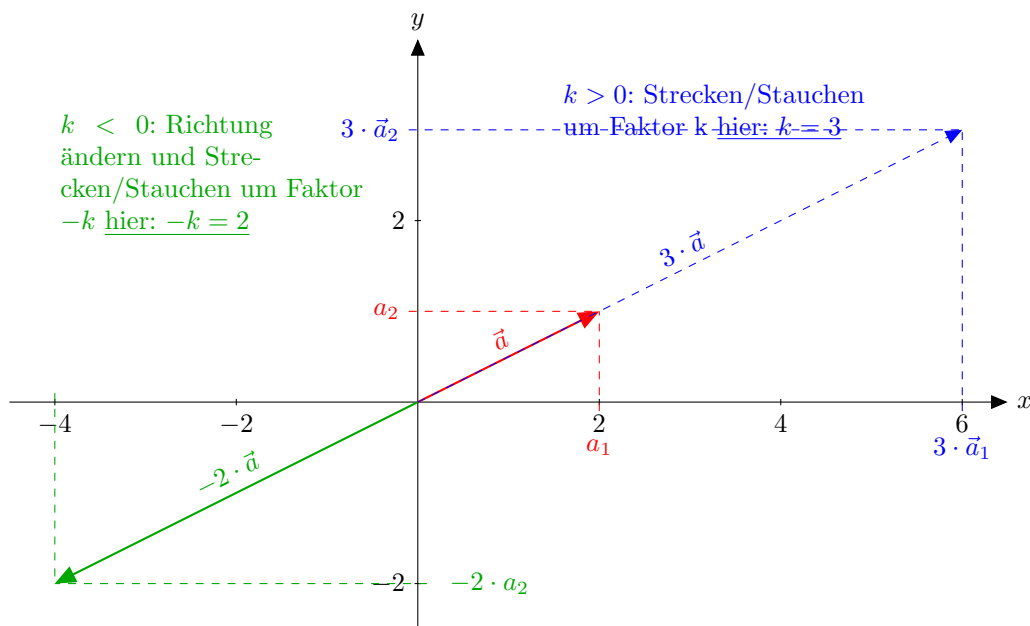


Abbildung 1.5: Multiplikation von Vektoren  $\vec{a} \cdot \vec{b}$

Rechenregeln:  $(k_1 \cdot k_2) \cdot \vec{a} = k_1 \cdot (k_2 \cdot \vec{a})$ ;  
 $1 \cdot \vec{a} = \vec{a}$ ;  
 $k \cdot (\vec{a} + \vec{b}) = k \cdot \vec{a} + k \cdot \vec{b}$ ;  
 $(k_1 + k_2) \cdot \vec{a} = k_1 \cdot \vec{a} + k_2 \cdot \vec{a}$

Zusammenhang mit der Subtraktion:  
 $\vec{a} - \vec{b} = \vec{a} + (-1) \cdot \vec{b}$

### 1.1.7 02\_1 „Kanonische“ Basisvektoren in der Ebene

$$\vec{e}_1 = (1, 0); \vec{e}_2 = (0, 1)$$

Darstellung von  $\vec{a} = a_1 \cdot \vec{e}_1 + a_2 \cdot \vec{e}_2$

### 1.1.8 02\_1 Lineare Abhängigkeit (Kollinearität)

$\vec{a}$  und  $\vec{b}$  sind linear abhängig falls gilt:

es gibt  $k_1$  mit  $\vec{a} = k_1 \cdot \vec{b}$  oder

es gibt  $k_2$  mit  $\vec{b} = k_2 \cdot \vec{a}$

- Anschauung für  $\vec{a} = (a_1, a_2)$ ,  $\vec{b} = (b_1, b_2)$ : die Punkte  $(a_1, a_2)$  und  $(b_1, b_2)$  liegen auf einer Geraden durch den Nullpunkt.
- Gegenteil: lineare Abhängigkeit

### 1.1.9 02\_1 Länge (Norm) eines Vektors in der Ebene

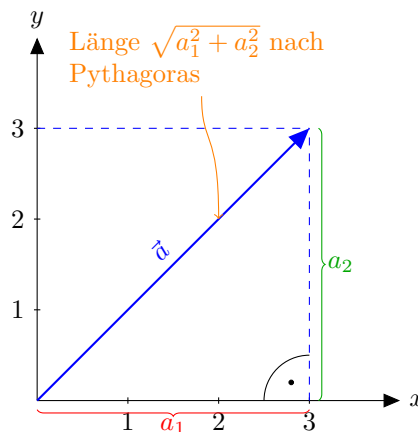


Abbildung 1.6: Länge (Norm) eines Vektors in der Ebene

- $|\vec{a}| = \sqrt{a_1^2 + a_2^2}$ . Auch üblich:  $\|\vec{a}\|$
- ist auch der Abstand zwischen den Punkten  $(0, 0)$  und  $(a_1, a_2)$

Rechenregeln:

$$|\vec{a}| = 0 \text{ gilt nur für } \vec{a} = \vec{0}$$

$$|k \cdot \vec{a}| = |k| \cdot |\vec{a}|;$$

$$|\vec{a} + \vec{b}| \leq |\vec{a}| + |\vec{b}|$$

- für  $\vec{a} = (a_1, a_2)$ ,  $\vec{b} = (b_1, b_2)$  ist  $|\vec{a} - \vec{b}|$  der Abstand der Punkte  $(a_1, a_2)$  und  $(b_1, b_2)$ .

### 1.1.10 02\_2 Einheitsvektoren

Einheitsvektoren sind Vektoren der Länge 1.

### 1.1.11 02\_2 Skalarprodukt von zwei Vektoren in der Ebene

- liefert wieder einen Skalar
- Berechnung für  $\vec{a} = (a_1, a_2)$ ,  $\vec{b} = (b_1, b_2)$ ;  
 $\langle \vec{a}, \vec{b} \rangle = a_1 b_1 + a_2 b_2$

auch übliche Schreibweise:  $(\vec{a}, \vec{b})$  bzw.  $\vec{a} \cdot \vec{b}$

Rechenregeln:

$$\begin{aligned} \langle \vec{a}, \vec{b} \rangle &= \langle \vec{b}, \vec{a} \rangle; \\ \langle \vec{a} + \vec{c}, \vec{b} \rangle &= \langle \vec{a}, \vec{b} \rangle + \langle \vec{c}, \vec{b} \rangle; \\ \langle k \cdot \vec{a}, \vec{b} \rangle &= k \cdot \langle \vec{a}, \vec{b} \rangle; \\ \langle \vec{a}, \vec{a} \rangle &> 0 \text{ für } \vec{a} \neq \vec{0} \\ |\langle \vec{a}, \vec{b} \rangle| &\leq |\vec{a}| \cdot |\vec{b}| \end{aligned}$$

### 1.1.12 02\_2 Öffnungswinkel zwischen zwei Vektoren $\vec{a} \neq 0$ , $\vec{b} \neq 0$ in der Ebene

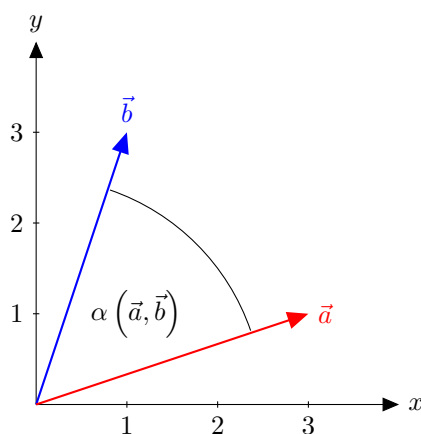


Abbildung 1.7: Öffnungswinkel zwischen zwei Vektoren in der Ebene

$$\cos(\alpha(\vec{a}, \vec{b})) = \frac{\langle \vec{a}, \vec{b} \rangle}{|\vec{a}| \cdot |\vec{b}|}, \text{ wobei } 0 \leq \alpha(\vec{a}, \vec{b}) \leq \pi$$

im Bogenmaß (d.h.  $0^\circ \leq \alpha(\vec{a}, \vec{b}) \leq 180^\circ$  im Gradmaß)



**1.1.13 Aufgaben - Vektoren in der Ebene****Aufgabe 1**

(Lösung siehe 3.1)

Gegeben sind:  $\vec{a} = (3, 4)$ ,  $\vec{b} = (10, 5)$ ,  $\vec{c} = \vec{a} - \frac{1}{2}\vec{b}$ 

- a. Bestimmen Sie  $\vec{c}$  durch Zeichnung und Rechnung!
- b. Bestimmen Sie  $|\vec{a}|$ ,  $|\vec{b}|$ ,  $|\vec{c}|$ .
- c. Bestimmen Sie den Öffnungswinkel  $\alpha(\vec{a}, \vec{c})$  und  $\alpha(\vec{a}, \vec{b})$ .

**Aufgabe 2**Welche Gegenkraft  $\vec{F}$  hebt die folgenden vier Einzelkräfte, die an einem Massepunkt angreifen, in der Wirkung auf?

$$\begin{array}{ll} \vec{F}_1 = (200N, 110N) & \vec{F}_2 = (-10N, 30N) \\ \vec{F}_3 = (40N, 85N) & \vec{F}_4 = (-30N, -50N) \end{array}$$

Von welchem Betrag ist  $\vec{F}$ ? Unter welchem Winkel greifen  $\vec{F}_1$  und  $\vec{F}_2$  den Massepunkt an?**Aufgabe 3**Gegeben sind:  $\vec{a} = (3, -1, 2)$ ,  $\vec{b} = (1, 2, 4)$ ,  $\vec{c} = (1, 1, 1)$ .

Berechnen Sie:

- a.  $\vec{a} + \vec{b}$ ,  $\vec{a} - \vec{b}$ ,  $4 \cdot \vec{a}$ ,  $-\frac{1}{4} \cdot \vec{b}$ ,  $-5 \cdot \vec{c}$ ,
- b.  $|\vec{a}|$ ,  $|\vec{b}|$ ,  $|\vec{c}|$ ,
- c.  $\alpha(\vec{a}, \vec{b})$ ,
- d.  $\vec{a} \times \vec{b}$  und den Flächeninhalt des von  $\vec{a}$  und  $\vec{b}$  aufgespannten Parallelogramms,
- e.  $[\vec{a}, \vec{b}, \vec{c}]$  und das Volumen des von  $\vec{a}$ ,  $\vec{b}$  und  $\vec{c}$  aufgespannten Spats.

**Aufgabe 4**Eine Kraft  $\vec{F}$  mit  $|\vec{F}| = 85N$  verschiebt einen Massenpunkt um eine Strecke  $\vec{s}$  mit  $|\vec{s}| = 32m$ ; dabei wird eine Arbeit von  $W = 1360J$  verrichtet.

Unter welchem Winkel greift die Kraft an?

### Aufgabe 5

Gegeben sind die folgenden Matrizen:

$$A = \begin{pmatrix} 1 & 0 & 2 \\ 0 & 3 & 0 \end{pmatrix}$$

$$B = \begin{pmatrix} 4 & 5 \\ 0 & 0 \end{pmatrix}$$

$$C = \begin{pmatrix} 0 & 1 \\ 0 & -1 \end{pmatrix}$$

$$D = \begin{pmatrix} 1 & 3 \\ 0 & 2 \end{pmatrix}$$

$$F = \begin{pmatrix} 1 & -\frac{3}{2} \\ 0 & \frac{1}{2} \end{pmatrix}$$

$$A + B$$

$$B + C$$

$$C - D$$

$$4 \cdot F$$

$$B \cdot A$$

$$A \cdot B$$

$$B \cdot C$$

$$C \cdot B$$

$$D \cdot F$$

$$F \cdot D$$

$$D$$

$$D^{-1}$$

$$A^t$$

$$B^t$$

## 1.2 Vektoren im Raum und n-dimensionale Vektoren - Übersicht

### 1.2.1 03\_1 Veranschaulichung von Vektoren im Raum

$$\vec{a} = (a_1, a_2, a_3)$$

$$\text{auch üblich } \vec{a} = \begin{pmatrix} a_1 \\ a_2 \\ a_3 \end{pmatrix} \leftarrow \text{Tripel}$$

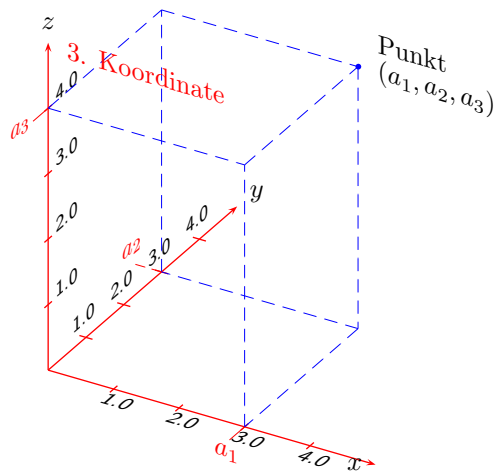


Abbildung 1.8:  $\text{Punkt}(a_1, a_2, a_3)$

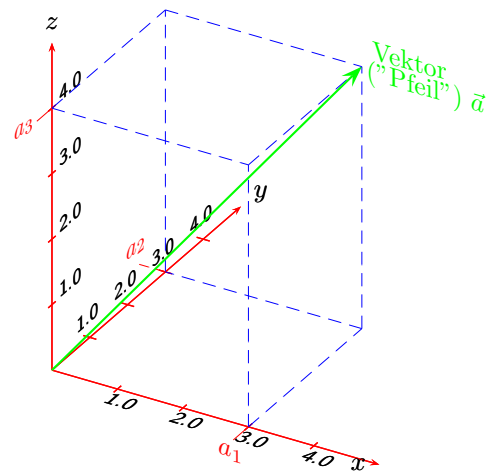


Abbildung 1.9:  $\vec{a} = (a_1, a_2, a_3)$

### 1.2.2 03\_1 Menge aller Vektoren im Raum / Menge aller n-dimensionalen Vektoren

- Die Menge heißt  $\mathbb{R}^3$  /  $\mathbb{R}^n$ ;
- Dabei ist  $n$  eine natürliche Zahl,  $n \in \mathbb{N}$ .
- Also:  $\mathbb{R}^3 = \{(a_1, a_2, a_3) \mid a_1, a_2, a_3 \in \mathbb{R}\}$
- $\mathbb{R}^3 = \{(a_1, \dots, a_n) \mid a_1, \dots, a_n \in \mathbb{R}\}$   
 n-Tupel  $\curvearrowright$

### 1.2.3 03\_1 Addition von n-dimensionalen Vektoren

Die Addition liefert wieder einen Vektor.

Berechnung:  $\vec{a} = (a_1, \dots, a_n), \quad \vec{b} = (b_1, \dots, b_n)$

$$\vec{a} + \vec{b} = (a_1 + b_1, \dots, a_n + b_n)$$

Rechenregeln wie für  $n = 2$ .

### 1.2.4 03\_1 n-dimensionaler Nullvektor

## 1 Lineare Algebra

$$\vec{0} = (0, \dots, 0)$$

Rechenregeln wie für  $n = 2$ .

### 1.2.5 03\_2 Subtraktion von n-dimensionalen Vektoren

Die Subtraktion liefert wieder einen Vektor.

Berechnung:  $\vec{a} = (a_1, \dots, a_n), \quad \vec{b} = (b_1, \dots, b_n)$

$$\vec{a} - \vec{b} = (a_1 - b_1, \dots, a_n - b_n)$$

Rechenregeln und Zusammenhang mit der Subtraktion wie für  $n = 2$ .

### 1.2.6 03\_2 Multiplikation von einem n-dimensionale Vektor mit einem Skalar

Die Multiplikation liefert wieder einen Vektor.

Berechnung:  $\vec{a} = (a_1, \dots, a_n), \quad k \in \mathbb{R}$

$$k \cdot \vec{a} = (k \cdot a_1, \dots, k \cdot a_n)$$

Rechenregeln und Zusammenhang mit der Subtraktion wie für  $n = 2$ .

### 1.2.7 03\_2 „Kanonische“ n-dimensionale Basisvektoren

$$\vec{e}_1 = (1, 0, \dots, 0) \quad \dots \quad \vec{e}_i = (0, \dots, 1, \dots, 0) \quad \dots \quad \vec{e}_n = (0, \dots, 0, 1)$$

↑  
i. Koordinate

Darstellung von  $\vec{a} = (a_1, \dots, a_n)$ :

$$\vec{a} = a_1 \vec{e}_1 + \dots + a_n \vec{e}_n = \sum_{i=1}^n a_i \vec{e}_i$$

### 1.2.8 03\_2 Eine Linearkombination von m n-dimensionalen Vektoren $\vec{a}_1, \dots, \vec{a}_m$

ist ein Ausdruck der Form

$$k_1 \cdot \vec{a}_1 + \dots + k_m \cdot \vec{a}_m = \sum_{j=1}^m k_j \cdot \vec{a}_j$$

### 1.2.9 03\_2 Lineare Abhängigkeit von n-dimensionalen Vektoren

$\vec{a}_1, \dots, \vec{a}_m$  sind linear abhängig, falls sich einer der Vektoren als Linearkombination der restlichen darstellen lässt.

Gegenteil: lineare Unabhängigkeit

- Lineare Abhängigkeit für drei Vektoren im Raum:
  - anderer Name: Komplanarität
  - Anschauung für  $\vec{a} = (a_1, a_2, a_3)$ ,  $\vec{b} = (b_1, b_2, b_3)$ ,  $\vec{c} = (c_1, c_2, c_3)$ :  
die Punkte  $(a_1, a_2, a_3)$ ,  $(b_1, b_2, b_3)$  und  $(c_1, c_2, c_3)$  liegen auf einer Ebene durch den Nullpunkt.

### 1.2.10 04\_1 Länge (Norm) eines n-dimensionalen Vektors

Berechnung:

$$\vec{a} = (a_1, \dots, a_n)$$

$$|\vec{a}| = \sqrt{a_1^2 + \dots + a_n^2} = \sqrt{\sum_{i=1}^n a_i^2}$$

Rechenregeln wie für  $n = 2$

für  $n = 3$  ist  $|\vec{a}|$  auch der Abstand der Punkte  $(0, 0, 0)$  und  $(a_1, a_2, a_3)$

für  $n = 3$ ,  $\vec{a}(a_1, a_2, a_3)$ ,  $\vec{b}(b_1, b_2, b_3)$

## 1 Lineare Algebra

ist  $\|\vec{a} - \vec{b}\|$  auch der Abstand der Punkte  $(a_1, a_2, a_3)$   
und  $(b_1, b_2, b_3)$

### 1.2.11 04\_1 n-dimensionale Einheitsvektoren

sind Vektoren der Länge 1

### 1.2.12 04\_1 Skalarprodukt von zwei n-dimensionalen Vektoren

liefert einen Skalar

Berechnung:  $\vec{a} = (a_1, \dots, a_n)$ ,  $\vec{b} = (b_1, \dots, b_n)$

$$\langle \vec{a}, \vec{b} \rangle = a_1 b_1 + \dots + a_n b_n = \sum_{i=1}^n a_i b_i$$

Rechenregeln wie für  $n = 2$

### 1.2.13 04\_1 Öffnungswinkel zwischen zwei n-dimensionalen Vektoren $\vec{a} \neq \vec{0}$ und $\vec{b} \neq \vec{0}$

$$\text{Berechnung: } \cos(\alpha(\vec{a}, \vec{b})) = \frac{\langle \vec{a}, \vec{b} \rangle}{|\vec{a}| \cdot |\vec{b}|},$$

wobei  $0 \leq \alpha(\vec{a}, \vec{b}) \leq \pi$  im Bogenmaß

(d.h.  $0^\circ \leq \alpha(\vec{a}, \vec{b}) \leq 180^\circ$  im Gradmaß),

also wie für  $n = 2$

### 1.2.14 04\_1 Vektorprodukt zwischen zwei Vektoren im $\mathbb{R}^3$

gibt es nur im  $\mathbb{R}^3$

liefert wieder einen Vektor

Berechnung:  $\vec{a} = (a_1, a_2, a_3)$ ,  $\vec{b} = (b_1, b_2, b_3)$

$$\vec{a} \times \vec{b} = (a_2 b_3 - a_3 b_2, a_3 b_1 - a_1 b_3, a_1 b_2 - a_2 b_1)$$

"Kreuz"

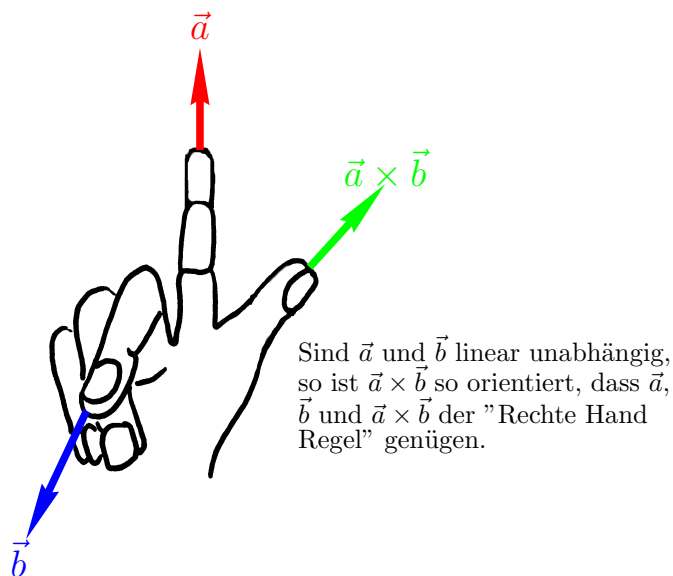
anderer Name: Kreuzprodukt

Rechenregeln:

$$\begin{aligned} \vec{b} \times \vec{a} &= -(\vec{a} \times \vec{b}); \\ \langle \vec{a}, \vec{a} \times \vec{b} \rangle &= \langle \vec{b}, \vec{a} \times \vec{b} \rangle = 0; \end{aligned}$$

(d.h.  $\vec{a} \times \vec{b}$  steht senkrecht auf  $\vec{a}$  und  $\vec{b}$ )

$$|\vec{a} \times \vec{b}| = |\vec{a}| \cdot |\vec{b}| \cdot \sin(\alpha(\vec{a}, \vec{b})) \text{ für } \vec{a}, \vec{b} \neq \vec{0}$$

[illegible]

$$\begin{aligned}\vec{b} \times \vec{a} &= -(\vec{a} \times \vec{b}) \\ \langle \vec{a}, \vec{a} \times \vec{b} \rangle &= \langle \vec{b}, \vec{a} \times \vec{b} \rangle = 0\end{aligned}$$

$$\begin{aligned} \vec{a} \times \vec{b} \\ |\vec{a} \times \vec{b}| &= |\vec{a}| \cdot |\vec{b}| \cdot \sin \\ \vec{a}, \vec{b} &\neq \vec{0} \\ |\vec{a} \times \vec{b}| \\ \alpha &= \alpha(\vec{a}, \vec{b}) \end{aligned}$$





## 2 23\_1 Differentialrechnung in $\mathbb{R}$

### 2.1 Grenzwertbildung bei Funktionen und Stetigkeit: Übersicht

#### 2.1.1 Grenzwertbildung bei Funktionen

1. Es ist  $\lim_{x \rightarrow x_0} f(x) = c$



## 3 Lösungen

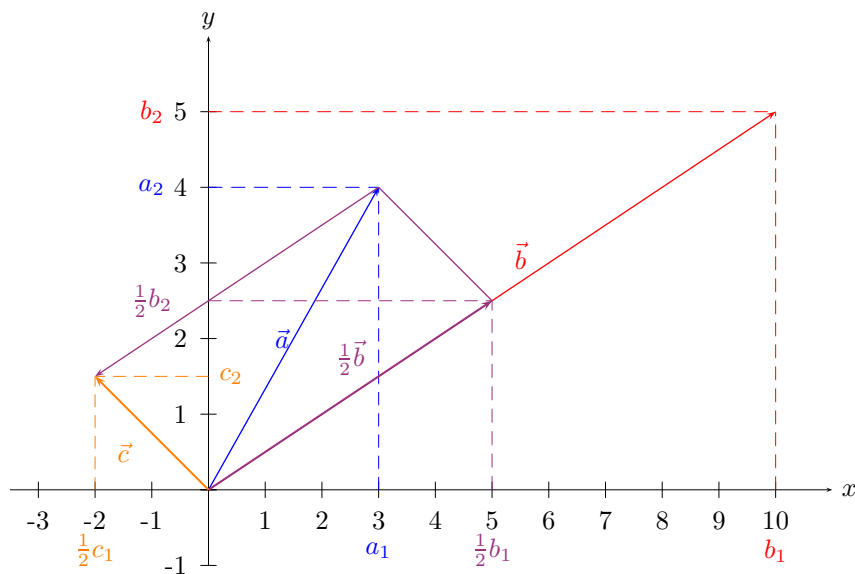
### 3.1 Aufgabe 1

Gegeben sind:  $\vec{a} = (3, 4)$ ,  $\vec{b} = (10, 5)$ ,  $\vec{c} = \vec{a} - \frac{1}{2}\vec{b}$

- Bestimmen Sie  $\vec{c}$  durch Zeichnung und Rechnung!
- Bestimmen Sie  $|\vec{a}|$ ,  $|\vec{b}|$ ,  $|\vec{c}|$ .
- Bestimmen Sie den Öffnungswinkel  $\alpha(\vec{a}, \vec{c})$  und  $\alpha(\vec{a}, \vec{b})$ .

#### 3.1.1 Lösung

**Zeichnung**



a.

**Rechnung**

a.  $\underline{\underline{\vec{c}}} = \vec{a} - \frac{1}{2}\vec{b} = (3, 4) - \frac{1}{2}(10, 5) = (3, 4) - (5, \frac{5}{2}) = (3 - 5, 4 - \frac{5}{2}) = \underline{\underline{(-2, \frac{3}{2})}}$

b.  $\underline{\underline{|\vec{a}|}} = |(3, 4)| = \sqrt{3^2 + 4^2} = \sqrt{9 + 16} = \sqrt{25} = \underline{\underline{5}}$

### 3 Lösungen

$$\underline{\underline{|\vec{b}|}} = |(10, 6)| = \sqrt{10^2 + 6^2} = \sqrt{100 + 36} = \sqrt{136} = \sqrt{4 \cdot 34} = 2\sqrt{34} \approx 11.8033988$$

$$\underline{\underline{|\vec{c}|}} = |(-2, \frac{3}{2})| = \sqrt{(-2)^2 + (\frac{3}{2})^2} = \sqrt{4 + \frac{9}{4}} = \sqrt{\frac{16+9}{4}} = \sqrt{\frac{25}{4}} = \frac{5}{2}$$

c.  $\alpha = \alpha(\vec{a}, \vec{c}), 0 \leq \alpha \leq \pi$   
 $\cos(\alpha) = \frac{\langle \vec{a}, \vec{c} \rangle}{|\vec{a}| \cdot |\vec{c}|} \underset{\text{vgl. b.}}{=} \frac{\langle (3, 4), (-2, \frac{3}{2}) \rangle}{5 \cdot \frac{5}{2}} = \frac{3 \cdot (-2) + 4 \cdot \frac{3}{2}}{\frac{25}{2}} = \frac{-6 + 6}{\frac{25}{2}} = 0 \Rightarrow \alpha = \underline{\underline{\frac{\pi}{2}}} \left( \hat{=} 90^\circ \right)$

$$\beta = \alpha(\vec{a}, \vec{b}), 0 \leq \beta \leq \pi$$

$$\cos(\beta) = \frac{\langle \vec{a}, \vec{b} \rangle}{|\vec{a}| \cdot |\vec{b}|} \underset{\text{vgl. b.}}{=} \frac{\langle (3, 4), (10, 5) \rangle}{5 \cdot 5 \cdot \sqrt{5}} = \frac{3 \cdot 10 + 4 \cdot 5}{25 \cdot \sqrt{5}} = \frac{50}{25 \cdot \sqrt{5}} = \frac{2}{\sqrt{5}}$$

Es folgt:

$$\beta = \cos^{-1}\left(\frac{2}{\sqrt{5}}\right) = \arccos\left(\frac{2}{\sqrt{5}}\right) \approx \underline{\underline{0.463647609}} \left( \hat{=} 26.565051177078^\circ \right)$$

## 3.2 Aufgabe 2

Welche Gegenkraft  $\vec{F}$  hebt die folgenden vier Einzelkräfte, die an einem Massepunkt angreifen, in der Wirkung auf?

$$\begin{aligned} \vec{F}_1 &= (200N, 110N) & \vec{F}_2 &= (-10N, 30N) \\ \vec{F}_3 &= (40N, 85N) & \vec{F}_4 &= (-30N, -50N) \end{aligned}$$

Von welchem Betrag ist  $\vec{F}$ ? Unter welchem Winkel greifen  $\vec{F}_1$  und  $\vec{F}_2$  den Massepunkt an?

### 3.2.1 Lösung

$$\begin{aligned} \vec{F} &= -(\vec{F}_1 + \vec{F}_2 + \vec{F}_3 + \vec{F}_4) \\ &= -(200N - 10N + 40N - 30N, 110N + 30N + 85N - 50N) \\ &= -(200N, 175N) \\ &= \underline{\underline{(-200N, -175N)}} \end{aligned}$$

$$\underline{\underline{|\vec{F}|}} = \sqrt{-(200)^2 + (-175)^2} N = \sqrt{(8 \cdot 25)^2 + (7 \cdot 25)^2} N = 25 \cdot \sqrt{113} N \hat{=} \underline{\underline{265.7536453N}}$$

Der gesuchte Winkel sei  $\alpha, 0 \leq \alpha \leq \pi$ .

$$\text{Dann gilt: } \cos(\alpha) = \frac{\langle \vec{F}_1, \vec{F}_2 \rangle}{|\vec{F}_1| \cdot |\vec{F}_2|} \cdot \otimes$$

$$\langle \vec{F}_1, \vec{F}_2 \rangle = \langle (200N, 110N), (-10N, 30N) \rangle = -2000N^2 + 3300N^2 = 1300N^2$$

$$|\vec{F}_1| = \sqrt{(200)^2 + (110)^2} N \approx 228.2542442N$$

$$|\vec{F}_2| = \sqrt{(-10)^2 + (30)^2} N \approx 31.6227766N$$

Das Einsetzen in  $\otimes$  ergibt:

$$\cos(\alpha) \approx 0.1801044696 \Rightarrow \arccos(\alpha) \approx \underline{\underline{1.38970367}} (79.62415508^\circ)$$

**3.3 Aufgabe 107**

$\mathbb{R} \rightarrow \mathbb{R}$  sei definiert durch 
$$f(x) = \begin{cases} x & \text{für } -1 \leq x \leq 1 \\ 0 & \text{sonst} \end{cases} ;$$

- a** Skizzieren Sie den Graphen von  $f$ . Zeigen Sie, daß  $f$  die Voraussetzungen aus 9.3.2 erfüllt.
- b** Berechnen Sie das Fourierintegral  $I(x)$  von  $f$ .
- c** Für welche  $x \in \mathbb{R}$

